

## Демоверсия входной работы по математике 2 класс

1. Расположи числа в порядке возрастания. 7, 0, 9, 18, 3, 10, 5.

2. Из ряда чисел: 14, 30, 50, 18, 7, 2, 10, 12, 60, 1,

Выпиши

- все однозначные числа \_\_\_\_\_
- все двузначные числа \_\_\_\_\_
- все круглые числа \_\_\_\_\_

3. Отгадай слово:

|   |   |   |   |   |   |   |
|---|---|---|---|---|---|---|
| 9 | 2 | 7 | 8 | 6 | 7 | 1 |
|   |   |   |   |   |   |   |

|       |   |       |    |       |   |
|-------|---|-------|----|-------|---|
| 9 - 7 | 8 | Д + 2 | 10 | 4 + 2 | Р |
| 3 + 6 | К | 7 - 0 | А  | 5 - 3 | В |

4. Сравни выражения.

$4 + 6 \dots 6 + 4$

$3 + 2 \dots 3 + 3$

$10 - 4 \dots 10 - 6$

$18 - 7 \dots 17 - 7$

5. Рассмотрите рисунок:



- 1) На сколько больше груш, чем яблок? \_\_\_\_\_
- 2) Сколько всего фруктов? \_\_\_\_\_
- 3) Сколько станет фруктов, если к ним положить один апельсин? \_\_\_\_\_
- 4) На сколько меньше яблок, чем груш? \_\_\_\_\_
- 5) Для ответа на какие вопросы нужно выполнить вычитание? **Обведи номера вопросов.**

6. Гена сложил несколько одинаковых чисел и получил в ответе 8.

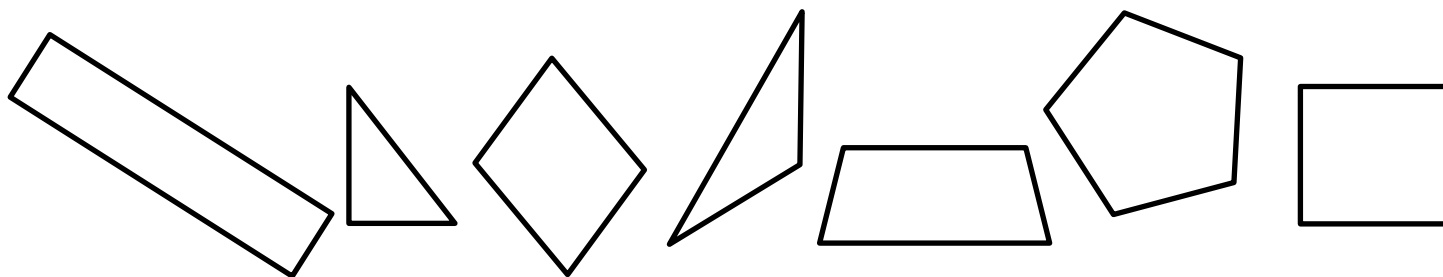
Какие числа сложил Гена?

---

---

---

7. Рассмотрите фигуры.



- Сосчитай все треугольники (напиши сколько треугольников) \_\_\_\_\_

- Верно ли, что

а) все фигуры треугольники? Подчеркни правильный ответ **Да Нет**

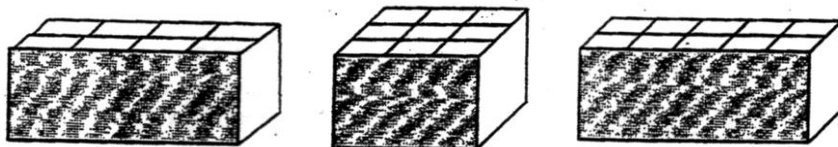
б) все фигуры – прямоугольники? Подчеркни правильный ответ **Да Нет**

в) пятиугольник находится справа от треугольника? **Да Нет**





Подчеркни правильный ответ

8. У Коли солдатики. В какую коробку он может их сложить, если в каждую ячейку можно положить только одного солдата и все ячейки должны быть заняты?

Обведи коробку.



9. У мальчиков есть машинки и самолёты. Сколько самолётов у Артёма?

|       | машинки   | самолёты   |
|-------|---|--|
| Дима  |  |  |
| Артём |  |  |

Ответ: Самолётов у Артёма \_\_\_\_\_